



# أوراق إثرائية في مادة العلوم العامة للفف الثالث نهاية الفصل الدراسي الثاني 2023-2024

ملحوظة : هذه الأوراق لا تغني عن الكتاب المدرسي

أسم الطالبة: \_\_\_\_\_

الفف الثالث: \_\_\_\_\_

**السؤال الأول: اختر الإجابة الصحيحة:**

1. أي الكائنات الآتية يتكاثر وينمو ؟

☐ الحصان

☐ السيارة

☐ الكرسي

☐ الحقيبة

2. أي الحيوانات الآتية يتغذى على النباتات ؟

☐ النمر

☐ الأسد

☐ الجمل

☐ سمكة القرش

3. أي الحيوانات الآتية يتنفس بالخياشيم؟

☐ الماعز

☐ السمكة

☐ الصقر

☐ الثعبان

4. ما الذي يساعد الطيور على الطيران؟

☐ الفرو

☐ القشور

☐ الأجنحة

☐ الأرجل

5. ما موطن غزال المها ؟

- ☐ الصحراء
- ☐ الغابات
- ☐ الجبال
- ☐ الأراضي الزراعية

6. لماذا يعد الخفاش من الثدييات ؟

- ☐ لأنه يطير
- ☐ لأنه يبيض
- ☐ لأنه له أجنحة
- ☐ لأنه يلد ويرضع صغاره

7. ما الموطن الذي تعيش فيه الأسماك؟

- ☐ البحار
- ☐ الصحراء
- ☐ الغابات
- ☐ اليابسة

8. ما الحيوان الذي يغطي جسمه ريش ؟

- ☐ السمكة
- ☐ التمساح
- ☐ البومة
- ☐ الخروف

9. ما الطريقة الوحيدة التي يمكن من خلالها تصنيف السمكة؟

- ☐ تعيش في الماء
- ☐ تلد صغارها
- ☐ تتنفس بالرئتين
- ☐ تستطيع أن تطير

10. أي حيوان مما يلي من الفقاريات؟

☐ الروبيان

☐ الدودة

☐ الفراشة

☐ الضفدع

11. لماذا يعد السنجاب من الفقاريات؟

☐ لديه عمود فقري

☐ يغطي جسمه فرو

☐ لأنه يتحرك ويتنفس

☐ ليس لديه عمود فقري

12. أي الحيوانات الآتية من اللافقاريات؟

☐ الحصان

☐ السلحفاة

☐ الحبار

☐ السمندل

13. ما الخاصية التي تستخدم لتصنيف الكائن الحي على أنه طائر؟

☐ وجود ريش

☐ وجود فرو

☐ وجود أرجل

☐ يتنفس بالرئتين

14. إلى أي صف من الحيوانات ينتمي الحوت ؟

☐ الطيور

☐ الأسماك

☐ الثدييات

☐ الزواحف

15. أي من هذه الحيوانات برمائي ؟

- ☐ غوريلا  
☐ سمكة  
☐ ضفدع  
☐ غزال

س2: اذكر خمسة خصائص للكائنات الحية .

1. ....
2. ....
3. ....
4. ....
5. ....

س3: اذكر خمس خصائص يمكن من خلالها تصنيف الحيوانات في مجموعات .

1. ....
2. ....
3. ....
4. ....
5. ....

س4: اذكر ثلاث خصائص يمكن من خلالها تصنيف النباتات.

1. ....
2. ....
3. ....



س5: اذكر ثلاث خصائص للكائن الحي الموجود في الصور.

1. ....

2. ....

3. ....



س6: اذكر ثلاث خصائص للدجاجة يمكن ملاحظتها

1. ....

2. ....

3. ....

س7: ادرس النباتات التي أمامك ثم اذكر طريقتين لتصنيف هذه النباتات في مجموعات:



الطريقة الأولى : .....

الطريقة الثانية : .....

س8: أَصِفُ الْخَصَائِصَ الَّتِي يُمَكِّنُ مُلَاحَظَتُهَا لِهَذَا الْحَلَّزُونِ وَأُحَدِّدُ إِنْ كَانَ مِنَ الْفَقَارِيَّاتِ أَوْ اللَّافَقَارِيَّاتِ.



حَلَّزُون

س9: ما الاختلاف بين الفقاريات واللافقاريات؟

س10: طُلِبَ إِلَى الطَّالِبِ تَصْنِيفُ شُحُورِ الْغَابَاتِ. اقْتَرِحْ طَرِيقَتَيْنِ يُمَكِّنُ مِنْ خِلَالِهِمَا تَصْنِيفُ شُحُورِ الْغَابَاتِ.



شُحُورُ الْغَابَاتِ

س11: اذكر خاصية يمكن من خلالها تصنيف الورود.

س12: صنف الحيوانات الآتية في مجموعتين حسب المكان الذي تعيش فيه:

الجمال – البطريق – الثعالب – الدب

مناطق باردة	مناطق حارة

س13: صنف الحيوانات الآتية في مجموعتين حسب طريقة التكاثر :

جمال – نعامة – أرنب –بطة

كائنات تلد	كائنات تبيض

س14: صنف الحيوانات الآتية في صفوف الفقاريات:

صقر – علجوم – أرنب – سلحفاة – سمكة التونة

الثدييات	الطيور	الأسماك	البرمائيات	الزواحف



س15 : قارن أوجه الشبه والاختلاف بين هذين الحيوانين .



قُنْفُذٌ



النَّيْصُ

أَوْجُهُ الْإِخْتِلَافِ	أَوْجُهُ الشَّبَهِ
.....	.....
.....	.....
.....	.....
.....	.....
.....	.....
.....	.....

س16: صنف القطة في صفوف الفقاريات ثم اذكر خصائصها .




- الصف : .....
- غطاء الجسم : .....
- طريقة التكاثر : .....
- كيفية الحركة: .....
- كيفية التنفس : .....

س17: صنف الحيوان الذي أمامك في صفوف الفقاريات ثم اذكر خصائصه .



- الصف : .....
- غطاء الجسم : .....
- طريقة التكاثر : .....
- كيفية الحركة : .....
- كيفية التنفس : .....

س18: صنف الضفدع في صفوف الفقاريات ثم اذكر خصائصه .



- الصف : .....
- غطاء الجسم : .....
- طريقة التكاثر : .....
- كيفية الحركة : .....
- كيفية التنفس : .....

س19: صنف الحيوان الذي أمامك في صفوف الفقاريات ثم اذكر خصائصه .



- الصف : .....
- غطاء الجسم : .....
- طريقة التكاثر : .....
- كيفية الحركة : .....
- كيفية التنفس : .....

س20: صنف الحيوان الذي أمامك في صفوف الفقاريات ثم اذكر خصائصه .

• الصف : .....

• غطاء الجسم : .....

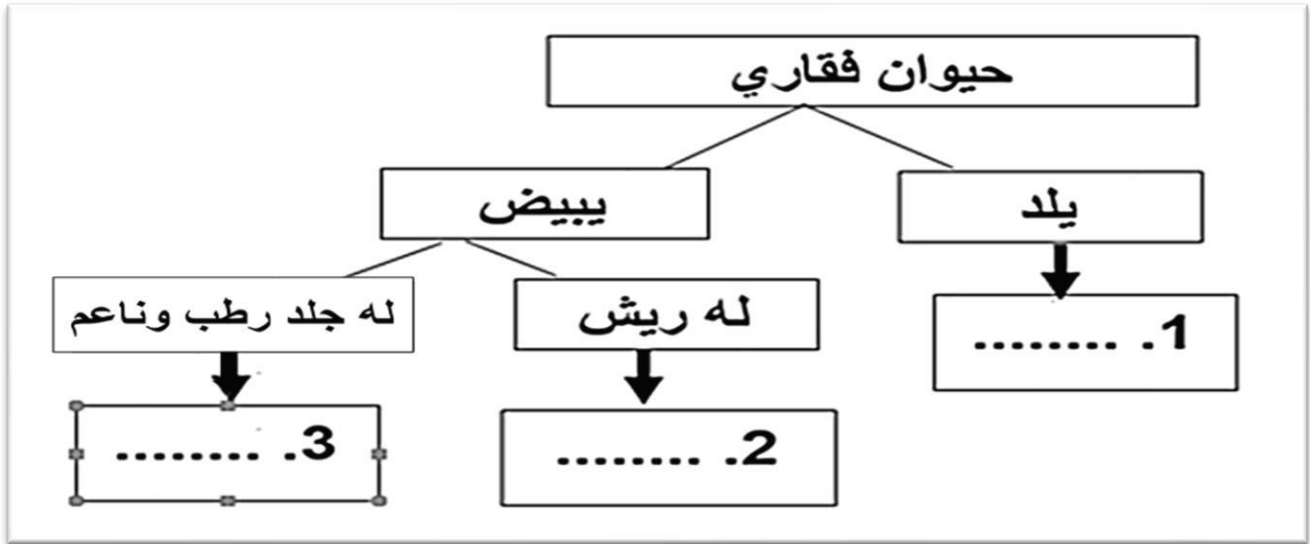
• طريقة التكاثر : .....

• كيفية الحركة : .....

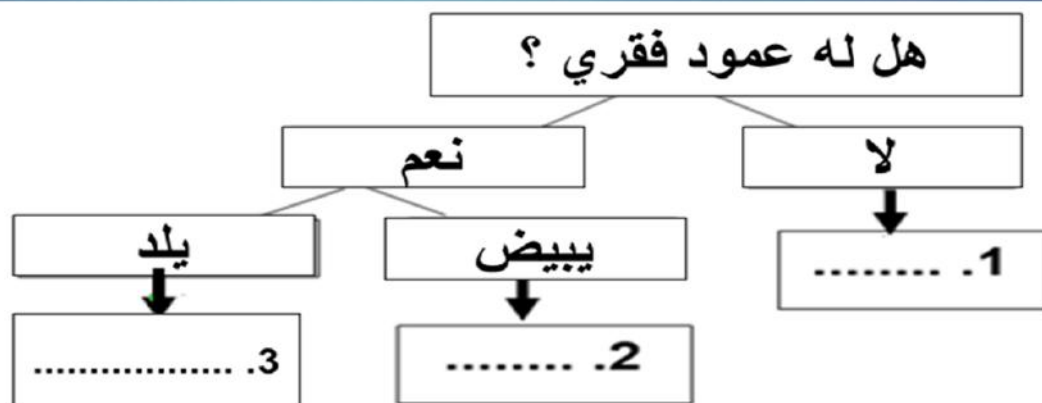
• كيفية التنفس : .....



س21: أكمل مفتاح التصنيف التالي :



س22: أكمل مفتاح التصنيف الآتي بوضع اسم الحيوان مكان النقط (التمساح - الفهد - الفراشة)



س23 : عرف كل من :

التصنيف

.....

.....

.....

مفتاح التصنيف

.....

.....

.....